

Sveučilište Josipa Jurja Strossmayera u Osijeku

Građevinski fakultet Osijek

12. rujan 2016.

**Dodatna provjera znanja,
vještina i sposobnosti**

Test 1

Provjera opće kulture

Sveučilišni preddiplomski studij arhitekture i urbanizma

Upute i napomene pristupnicima:

Listove sa zadacima možete koristiti za bilježenje rješenja: oni se neće ispravljati niti bodovati.

Pažljivo pročitajte upute uz svaki zadatak.

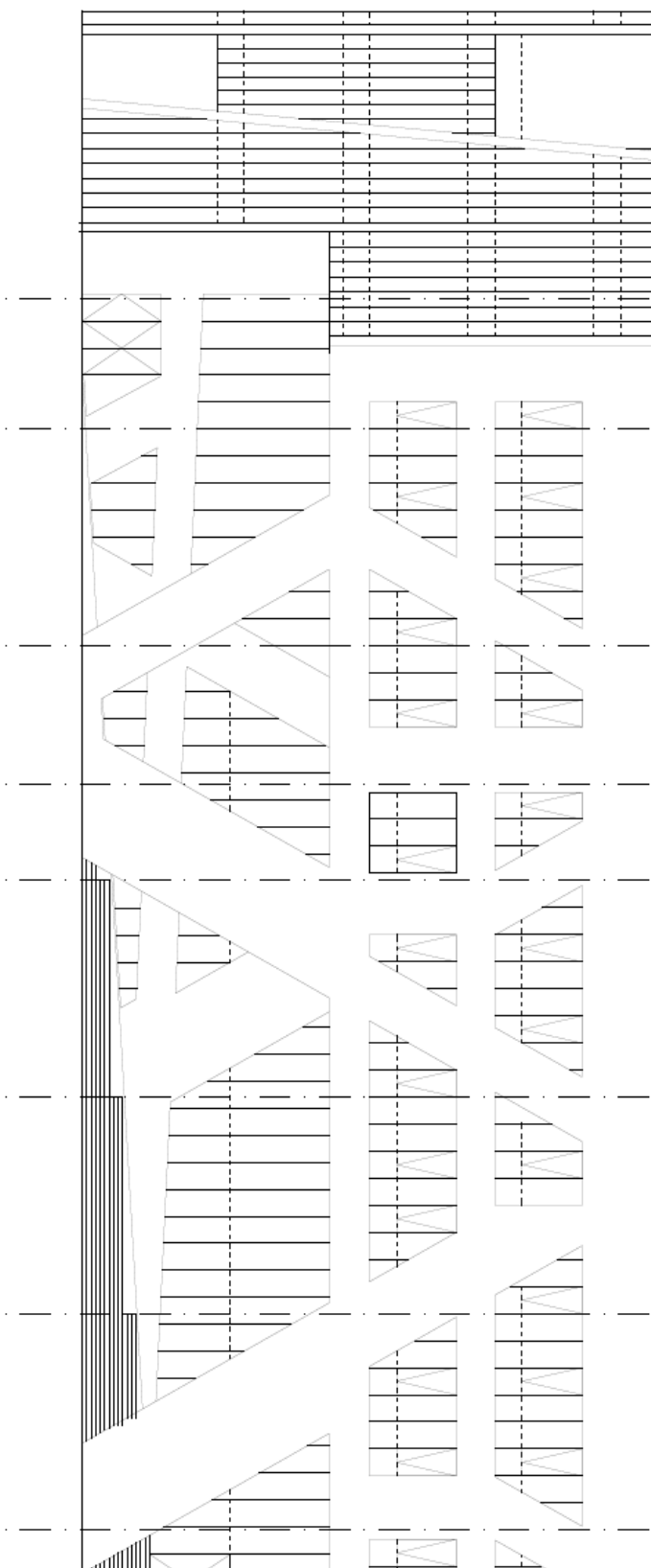
Kada ste gotovi rješenja označite na **LISTU ZA ODGOVORE**. Na primjer:

4. zadatak 4 boda

a	b	c	d	e
---	---	--------------	---	---

Na LISTU ZA ODGOVORE koristite isključivo kemijsku olovku, obvezno ispunite odgovore na sva pitanja i nemojte ispravljati odgovore. Osim odgovora na pitanja LIST ZA ODGOVORE ne smije sadržavati druge bilješke ili skice, jer se u suprotnom neće priznavati bodovi.

Uz svaki zadatak napisan je i broj bodova za točno riješen cijeli zadatak. U testu nema negativnih bodova.



1. zadatak 4 boda

Predsjedništvo Vijeća EU-a raspoređeno je među nacionalnim vladama za 28 država članica, a dužnost predsjedanja prelazi s jedne države članice na drugu svakih šest mjeseci, 1. siječnja i 1. srpnja svake godine. Koja država trenutno, od 1. srpnja do 31. prosinca 2016. godine, predsjeda Vijećem EU-a?

Slovo uz točan odgovor označite na listu za odgovore. Samo je jedan odgovor točan.

- a. Mađarska
- b. Češka
- c. Slovačka
- d. Nizozemska
- e. Poljska

2. zadatak 4 boda

U kolovozu 2016. održane su 31. ljetne Olimpijske igre u Rio de Janeiru. Koji grad će biti domaćin sljedećih 32. ljetnih Olimpijskih igara 2020. godine?

Slovo uz točan odgovor označite na listu za odgovore. Samo je jedan odgovor točan.

- a. Chicago
- b. Rim
- c. Tokyo
- d. San Francisco
- e. New Delhi

3. zadatak 8 bodova

Muzeji suvremene umjetnosti stvaraju nove vizualne identitete europskih gradova. Na sljedećim fotografijama prikazana su četiri muzeja suvremene umjetnosti u europskim gradovima. Na listu za odgovore pridružite broju odgovarajuće slovo ispred imena grada.

- a. Zagreb
- b. London
- c. Pariz
- d. Bilbao



4. zadatak 4 boda

2005. godine raspisan je javni projektni natječaj za idejno arhitektonsko rješenje nove zgrade Građevinskog fakulteta Osijek u sveučilišnom kampusu. Koji je dvojac hrvatskih arhitekata dobio I. nagradu na tom natječaju, a kasnije je po njihovom projektu zgrada u kojoj se nalazite i realizirana?

Slowo uz točan odgovor označite na listu za odgovore. Samo je jedan odgovor točan.

- a. Saša Randić i Idis Turato
- b. Branimir Medić i Pero Puljiz
- c. Dinko Peračić i Roman Šilje
- d. Vinko Penezić i Krešimir Rogina
- e. Tomislav Ćurković i Zoran Zidarić

5. zadatak 4 boda

Koji se lokalitet od navedene kulturne baštine Hrvatske **ne nalazi** na UNESCO-vom popisu svjetske baštine?

Slowo uz točan odgovor označite na listu za odgovore. Samo je jedan odgovor točan.

- a. Ranokršćanski kompleks Eufrazijeve bazilike u Poreču
- b. Povijesna jezgra u Trogiru
- c. Stari grad Dubrovnik
- d. Stećci - srednjovjekovni nadgrobnji spomenici
- e. Osječka Tvrđa

6. zadatak 4 boda

Miroslav Krleža je bio hrvatski književnik i enciklopedist, po mnogima najveći hrvatski pisac 20. stoljeća. Koje od navedenih književnih djela **nije napisao** Miroslav Krleža?

Slowo uz točan odgovor označite na listu za odgovore. Samo je jedan odgovor točan.

- a. Na rubu pameti
- b. Banket u Blitvi
- c. Povratak Filipa Latinovicza
- d. Hrvatski bog Mars
- e. U registraturi

7. zadatak 4 boda

Zlatni rez je matematičko-strukturalni pojam koji se veže uz estetiku konstrukcije i kompozicije u umjetnosti. To je način podjele neke veličine u određenom odnosu i razmjeru. Poznat je i kao zlatna sredina te božanski ili zlatni omjer. Koji je to omjer zaokružen na šest decimala?

Slowo uz točan odgovor označite na listu za odgovore. Samo je jedan odgovor točan.

- a. 1 : 3,141593
- b. 1 : 1,500000
- c. 1 : 1,333333
- d. 1 : 1,618033
- e. 1 : 1,666667

8. zadatak 8 bodova

Poznati arhitekti i dizajneri tijekom 20. stoljeća stvorili su prepoznatljive i vrlo popularne modele stolica. Na sljedećim fotografijama prikazana su četiri poznata dizajnerska rješenja stolica odnosno naslonjača. Na listu za odgovore pridružite broju odgovarajuće slovo ispred imena autora.

- a. Mies van der Rohe
- b. Arne Jacobsen
- c. Gerrit Rietveld
- d. Charles & Ray Eames



9. zadatak 4 boda

Kazimir Maljevič je 1913. godine stvorio pojam kako bi opisao rusku apstraktnu umjetnost s elementima kubizma. Tom stilu je svojstvena uporaba geometrijskih oblika, a prazan prostor na platnu smatrao se jednakovrijednim. O kojem je pojmu riječ?

Slovo uz točan odgovor označite na listu za odgovore. Samo je jedan odgovor točan.

- a. Nova stvarnost
- b. Modernizam
- c. Suprematizam
- d. Neoplasticizam
- e. Primitivizam

10. zadatak 4 boda

Quentin Tarantino, američki scenarist, filmski redatelj i glumac proslavio se početkom 1990-tih godina. Koji film nije režirao Quentin Tarantino?

Slovo uz točan odgovor označite na listu za odgovore. Samo je jedan odgovor točan.

- a. Maska osmorka
- b. Odbjegli Django
- c. Pakleni šund
- d. Jasmine French
- e. Kill Bill

11. zadatak 8 bodova

Muški akt provlači se kao motiv kroz umjetnička razdoblja. Na listu za odgovore pridružite broju odgovarajuće slovo uz naziv poznate statue muške figure.


- a. David
- b. Posejdon
- c. Dorifor
- d. Apoksiomen

1

2

3

4

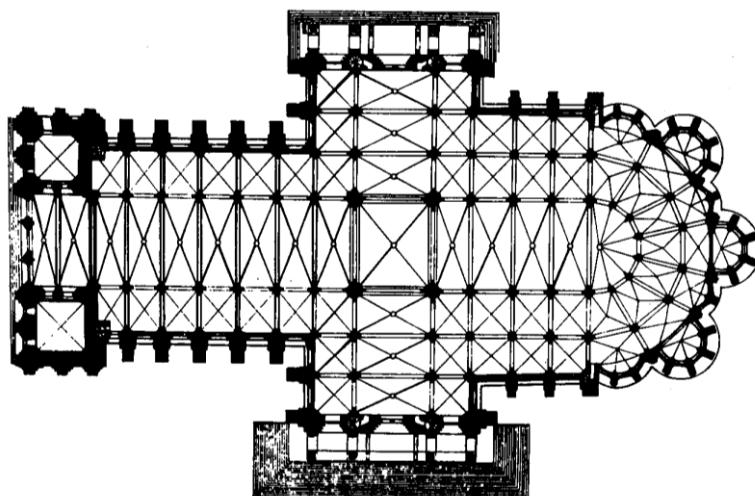


12. zadatak 4 boda

Kojem stilskom razdoblju odgovara prikazani tlocrt crkve?

Slovo uz točan odgovor označite na listu za odgovore. Samo je jedan odgovor točan.

- a. Romanika
- b. Bizant
- c. Gotika
- d. Renesansa
- e. Barok



13. zadatak 6 bodova


Johannes Vermeer Van Delft (1632. – 1675.) jedan je od najpoznatijih nizozemskih slikara koji je stvarao u vrijeme baroka, u 17. stoljeću. Koju od sljedećih slika **nije naslikao** Vermeer Van Delft?

Slovo uz točan odgovor označite na listu za odgovore. Samo je jedan odgovor točan.

a. Glazbena lekcija


b. Koncert

c. Slikar u atelieru



d. Ambasadori

e. Geograf



14. zadatak 4 boda

Giuseppe Verdi (1813. – 1901.) najveći je kompozitor zrelog talijanskog belkanta. Koju je od nabrojanih opera skladao Giuseppe Verdi?

Slovo uz točan odgovor označite na listu za odgovore. Samo je jedan odgovor točan.

- a.** Don Giovanni
- b.** Nabucco
- c.** Carmen
- d.** Tosca
- e.** Parsifal

15. zadatak 4 boda

Projekcijom mađarskog filma "Ovo nije moje vrijeme" započeo je ovogodišnji Vukovar film festival. Koji je po redu ovogodišnji Vukovar film festival?

Slovo uz točan odgovor označite na listu za odgovore. Samo je jedan odgovor točan.

- a. prvi
- b. deveti
- c. deseti
- d. peti
- e. dvanaesti

16. zadatak 4 boda

„Država to sam ja“ poznate su riječi kojeg apsolutističkog vladara?

Slovo uz točan odgovor označite na listu za odgovore. Samo je jedan odgovor točan.

- a. Sulejmana Veličanstvenog
- b. Julija Cezara
- c. Karla Velikog
- d. Luja XIV.
- e. Napoleona

17. zadatak 6 bodova

Alvar Aalto, punim imenom Hugo Alvar Henrik Aalto (1898. - 1976.), finski arhitekt i dizajner jedan je od pionira europskog razdoblja moderne. Koji predmet produkt dizajna **nije dizajnirao** Alvar Aalto?

Slovo uz točan odgovor označite na listu za odgovore. Samo je jedan odgovor točan.

a.



b.



c.



d.



e.



18. zadatak 4 boda

WWW ili www je informacijski prostor s otvorenim kodom gdje su dokumenti i drugi resursi identificirani URL-ovima, koji se katkad naziva jednostavno "mreža". "Mreža" je imala središnju ulogu u razvoju informacijskog doba i primarni je alat koji milijarde ljudi upotrebljava za interakciju na internetu. Što znači skraćenica WWW ili www?

Slovo uz točan odgovor označite na listu za odgovore. Samo je jedan odgovor točan.

- a. Word Wise Web
- b. World Wise Web
- c. Word With Web
- d. World Wide Web
- e. World With Web

19. zadatak 6 bodova

Ivan Vitić, hrvatski je arhitekt (1917. - 1986.) koji suvremenu arhitekturu jasnih kubičnih volumena i živog kolorita s izrazitim mediteranskim značajkama često interpolira u stare ambijente dalmatinskih gradova.

Koja fotografija **ne prikazuje** detalj pročelja zgrade arhitekta Ivana Vitića?

Slovo uz točan odgovor označite na listu za odgovore. Samo je jedan odgovor točan.

a.



b.



c.



d.



e.



20. zadatak 6 bodova

Rimska je umjetnost trajala od 9. stoljeća pr.n.e. do pada Zapadnog rimskog carstva 476. godine. Koja od sljedećih fotografija **ne prikazuje** arhitekturu Rima i Rimskog carstva?

Slovo uz točan odgovor označite na listu za odgovore. Samo je jedan odgovor točan.


a.



b.



c.



d.



e.



21. zadatak 4 boda

Međunarodno priznata umjetnica, poznata i kao pionirka performansa u Hrvatskoj, jedina je hrvatska umjetnica koja je imala priliku predstaviti svoj četrdesetogodišnji opus na retrospektivnoj izložbi u Muzeju moderne umjetnosti u New Yorku krajem 2011. godine pod nazivom „Slatko nasilje“. Umjetnica je retrospektivno predstavila svoja djela oblikovana u medijima videa, fotografije i performansa uključujući i javni umjetnički projekt „Rosa Luxemburg“. Kako se umjetnica zove?

Slovo uz točan odgovor označite na listu za odgovore. Samo je jedan odgovor točan.

- a.** Nives Kavurić Kurtović
- b.** Nasta Rojc
- c.** Sanja Iveković
- d.** Marina Abramović
- e.** Kristina Leko

22. zadatak 4 boda

Paučinasta mrežasta struktura osnovni je konstrukcijski element prostornih interaktivnih instalacija. Koji autor stoji iza opisanog prostornog elementa?

Slovo uz točan odgovor označite na listu za odgovore. Samo je jedan odgovor točan.

- a. Numen For Use
- b. Olafur Eliasson
- c. Ivan Kožarić
- d. Dušan Džamonja
- e. Ivan Ladislav Galeta

23. zadatak 4 boda

Kako se naziva istraživanje mogućnosti pejzaža i okoliša kao materijala i lokacije, koji na taj način prirodu izravno uključuje u umjetničko djelo?

Slovo uz točan odgovor označite na listu za odgovore. Samo je jedan odgovor točan.

- a. domorodačka umjetnost
- b. tradicijska umjetnost
- c. primitivizam
- d. naturalizam
- e. land art

24. zadatak 8 bodova

Na karti Hrvatske označene su lokacije nacionalnih parkova. Na listu za odgovore pridružite broju odgovarajuće slovo koje se nalazi uz naziv nacionalnog parka.

- a. Sjeverni Velebit
- b. Brijuni
- c. Plitvička jezera
- d. Mljet
- e. Kornati
- f. Paklenica
- g. Krka
- h. Risnjak



25. zadatak 4 boda

Kako se zove jedini književnik koji je godišnju nagradu za književnost „Vladimir Nazor“ dobio po drugi put, a za 2015. godinu osvojio ju za zbirku pjesama „Lovci u snijegu“?

Slovo uz točan odgovor označite na listu za odgovore. Samo je jedan odgovor točan.

- a. Delimir Rešicki
- b. Drago Glamuzina
- c. Zoran Ferić
- d. Damir Miloš
- e. Branko Čegec

26. zadatak 4 boda

Koji oblik ima Piazza del Campo, trg u Sieni, jedan od najljepših srednjovjekovnih trgova?

Slovo uz točan odgovor označite na listu za odgovore. Samo je jedan odgovor točan.

- a. kvadrata
- b. kruga
- c. školjke
- d. trokuta
- e. elipse

27. zadatak 4 boda

Svake godine zadatak oblikovanja privremene galerije u Kensington vrtovima (Kensington Gardens) uz Hyde park se dodijeli odabranom arhitektu. Koji je naziv galerije?

Slovo uz točan odgovor označite na listu za odgovore. Samo je jedan odgovor točan.

- a. Hyde Park Gallery
- b. London Gallery
- c. Kensington Gallery
- d. Serpentine Gallery
- e. The Gallery

28. zadatak 4 boda

11. lipnja 2016. godine u zagrebačkoj Oris kući arhitekture svoje crteže i grafike je predstavio poznati svjetski arhitekt. Koji je to arhitekt?

Slovo uz točan odgovor označite na listu za odgovore. Samo je jedan odgovor točan.

- a. Peter Zumthor
- b. Rem Koolhaas
- c. Eduardo Souto de Moura
- d. Fernando Távora
- e. Alvaro Siza

29. zadatak 8 bodova

U Hrvatskoj se održava niz glazbenih festivala. Na listu za odgovore pridružite broju odgovarajuće slovo uz naziv festivala.

- | | |
|---------------------|--------------|
| a. Festival Hartera | 1. Varaždin |
| b. Ferragosto JAM | 2. Split |
| c. Ultra Europe | 3. Orahovica |
| d. Špancirfest | 4. Rijeka |

30. zadatak 6 bodova

U urbanizmu renesanse i baroka nastajali su utvrđeni gradovi estetikom koja proizlazi iz težnje da se stvori "idealni grad" čija struktura počiva na geometrijskim pravilima. Mnogi gradovi do danas u svojoj strukturi imaju sačuvanu osnovnu geometriju renesansnog ili baroknog grada. Koji snimak iz zraka prikazuje Osijek?

Slovo uz točan odgovor označite na listu za odgovore. Samo je jedan odgovor točan.

a.



b.



c.



d.



e.

