

Dodatna provjera znanja, vještina i sposobnosti

Test 1

Provjera opće kulture

Sveučilišni preddiplomski studij arhitekture i urbanizma

Upute i napomene pristupnicima:

Listove sa zadacima možete koristiti za bilježenje rješenja: oni se neće ispravljati niti bodovati.

Pažljivo pročitajte upute uz svaki zadatak.

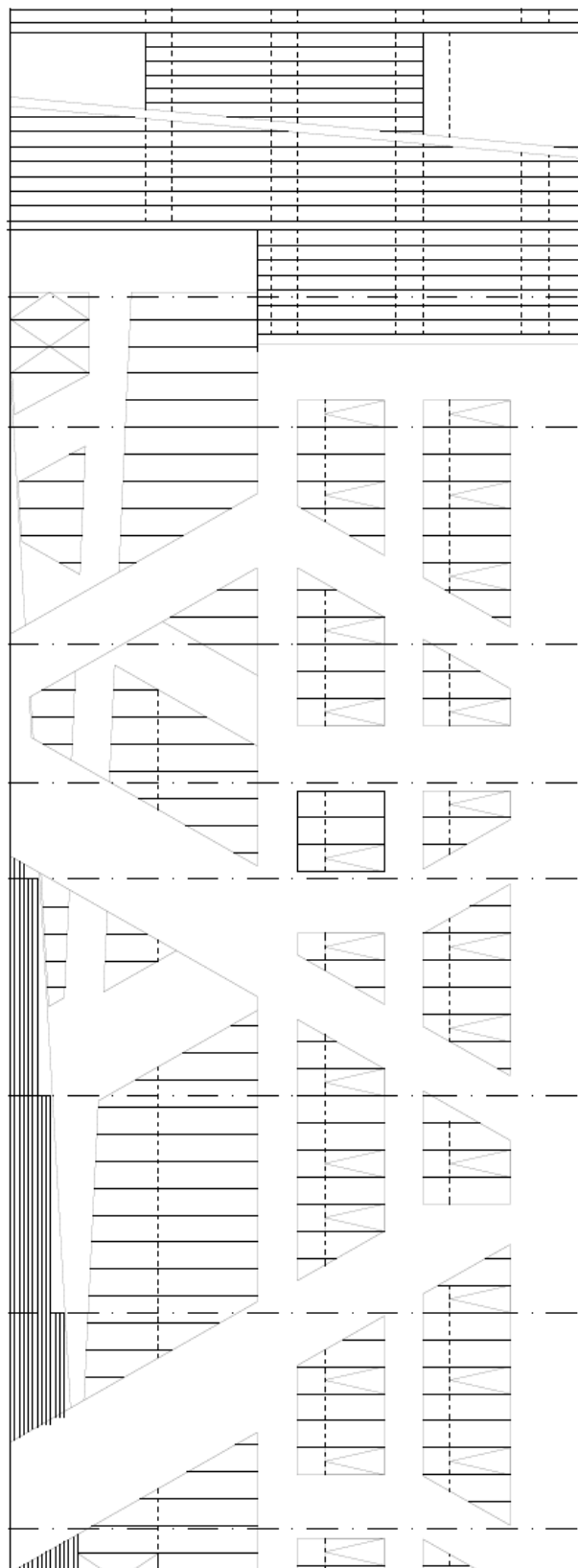
Kada ste gotovi, rješenja označite na **LISTU ZA ODGOVORE**. Na primjer:

4. zadatak 4 boda

a	b	c	d	e
---	---	--------------	---	---

Na LISTU ZA ODGOVORE koristite isključivo kemijsku olovku, obvezno ispunite odgovore na sva pitanja i nemojte ispravljati odgovore. Osim odgovora na pitanja, LIST ZA ODGOVORE ne smije sadržavati druge bilješke ili skice, jer se u suprotnom neće priznavati bodovi.

Uz svaki zadatak napisan je i broj bodova za točno riješen cijeli zadatak. U testu nema negativnih bodova.

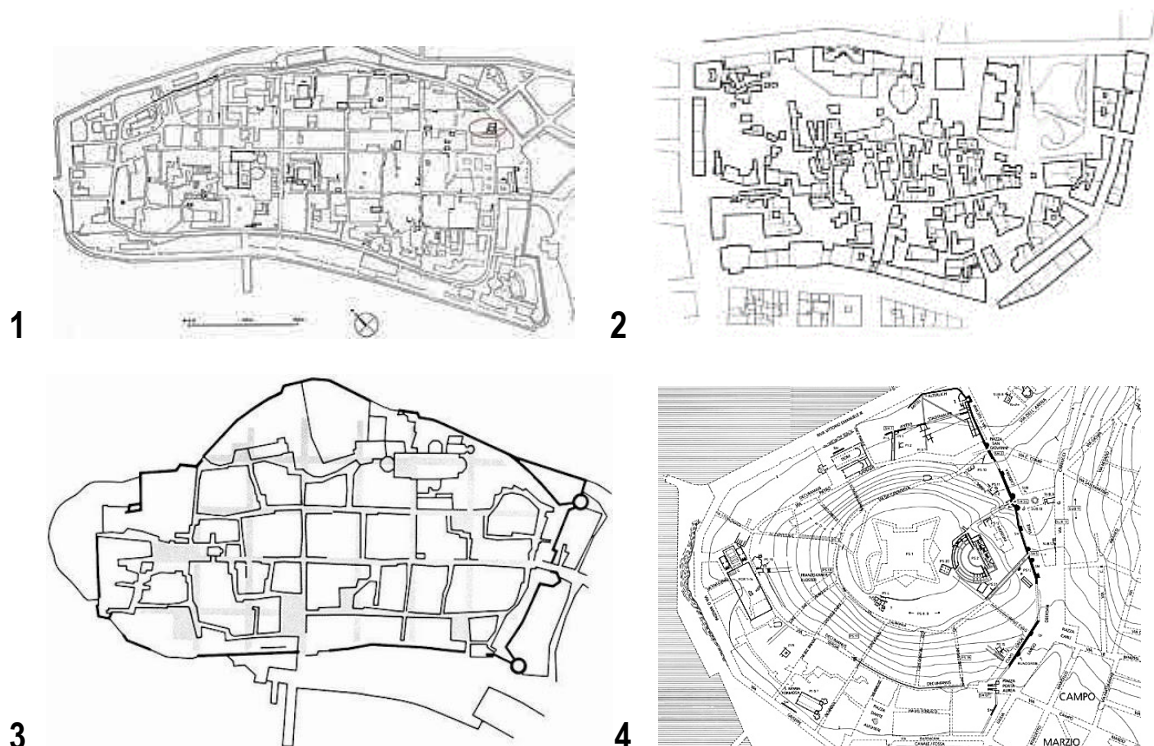


1. zadatak 12 bodova

Rimska naselja na tlu Hrvatske ostavila su bogato nasljeđe. U današnjim gradovima s rimskim nasljeđem možemo prepoznati urbanističke elemente postavljene u rimsko doba (decumanus, cardo, forum, javne zgrade i hramovi). Na slici su prikazana četiri plana rimskih naselja na tlu Hrvatske. Pridruži slici plana ime rimskog naselja.

Pridruži broju odgovarajuće slovo. Za svaki točan odgovor dobiva se 3 boda.

- a. Pola
- b. Parentium
- c. Tarsatica
- d. Jader



2. zadatak 4 boda

Nagrada Europske unije za književnost dodjeljuje se od 2009. godine autorima iz 41 zemlje koje sudjeluju u programu EU Kreativna Europa. U svibnju 2020. godine ova je nagrada dodijeljena mladoj hrvatskoj književnici za zbirku priča „Poštovani kukci i druge jezive priče“. O kojoj je književnici riječ?

Slovo uz točan odgovor označite na listu za odgovore. Samo je jedan odgovor točan.

- a. Katja Grcić
- b. Iva Tkalec
- c. Maša Kolanović
- d. Ružica Aščić
- e. Monika Herceg

3. zadatak 12 bodova

Na slijepoj karti Europe označena su četiri broja na teritoriju četiri države. Pridruži broju države odgovarajući opis.

Pridruži broju države odgovarajuće slovo. Za svaki točan odgovor dobiva se 3 boda.

- a. država primljena u punopravno članstvo Europske zajednice (današnje Europske unije) 1973. godine koja ima dva službena jezika
- b. država primljena u punopravno članstvo Europske zajednice (današnje Europske unije) 1958. godine, a čija vlada nema sjedište u glavnom gradu
- c. država primljena u punopravno članstvo Europske zajednice (današnje Europske unije) 1958. godine, a koja ima najveći BDP po stanovniku u zadnjih 5 godina
- d. država primljena u punopravno članstvo Europske zajednice (današnje Europske unije) 1958. godine, a koja ima najveću površinu



4. zadatak 6 bodova

Sve fotografije pokazuju poznate podne lampe. Koju lampu je dizajnirao Achille Castiglioni pod nazivom Arco?

Slovo uz točan odgovor označi na listu za odgovore. Samo je jedan odgovor točan.



5. zadatak 12 bodova

Prostori uz rijeke su mjesta koja imaju posebnu vrijednost za gradove. Poveži ime grada i prepoznatljivu riječnu vizuru.

Pridruži broju slike slovo odgovarajućeg grada. Za svaki točan odgovor dobiva se 3 boda.

- a. Köln
- b. Moskva
- c. Rotterdam
- d. Prag



1



2



3



4

6. zadatak 4 boda

Hrvatsko narodno kazalište u Zagrebu je zbog pandemije COVID-19 zatvorilo svoja vrata gledateljima 12. ožujka 2020. godine. Dva mjeseca poslije, 12. svibnja 2020., ispred glavnog ulaza u Hrvatsko narodno kazalište Zagreb snimljena je milenijaska fotografija kao simbolična najava nastavka kazališne sezone. Umjetnici su pozirali ispred zgrade kazališta međusobno udaljeni 2 metra, po uputama Stožera civilne zaštite Republike Hrvatske. Koji je poznati hrvatski fotograf/fografinja snimio ovu milenijsku fotografiju?

Slovo uz točan odgovor označite na listu za odgovore. Samo je jedan odgovor točan.


- a. Paul Lukin
- b. Šime Strikoman
- c. Mare Milin
- d. Josip Mišković
- e. Mara Bratoš

7. zadatak 12 bodova

Industrija filma posljednjih desetljeća znatno ulaže u kvalitetne serije. U kojim gradovima se odvijaju serije na slikama? Prepoznaj seriju i poveži ju s gradom.

Pridruži broju slike slovo uz ime odgovarajućeg grada. Za svaki točan odgovor dobiva se 3 boda.

- a. Birmingham
- b. New Jersey
- c. Berlin
- d. Zagreb



8. zadatak 4 boda

Nijedan od niže navedenih glavnih gradova europskih država nije smješten na obali mora. Koji od navedenih gradova se nalazi najbliže morskoj obali?

Slovo uz točan odgovor označite na listu za odgovore. Samo je jedan odgovor točan.

- a. Pariz
- b. Madrid
- c. Rim
- d. Brisel
- e. Berlin

9. zadatak 12 bodova

Osim po hitovima i dobrim pjesmama, albumi se pamte i po naslovnicama. Poveži naslovnicu s grupom.

Pridruži broju albuma slovo uz naziv benda. Za svaki točan odgovor dobiva se 3 boda.

- a. Joy Division
- b. Nirvana
- c. Pink Floyd
- d. The Velvet Underground and Nico


1




2



3



4



10. zadatak 12 bodova

U krugu tvornice namještaja Vitra (Vitra Campus) u Baselu, u Švicarskoj, nalaze se, uz Muzej dizajna, i drugi paviljoni koji služe različitim namjenama potrebnim tvornici Vitra, a svaki paviljon projektirali su drugi arhitekti.

Pojedinom arhitektu pridruži na listu za odgovore paviljon kojeg je projektirao.

Pridruži broju paviljona odgovarajuće slovo uz ime arhitekta. Za svaki točan odgovor dobiva se 3 boda.

- a. Zaha Hadid
- b. Tadao Ando
- c. Frank Gehry
- d. Herzog & De Meuron



1 VitraHaus



2 Vitra Design Museum



3 Vitra Fire Station



4 Vitra Conference Pavilion

11. zadatak 4 boda

Koji glumac je dobitnik nagrade Oscar za najbolju glavnu mušku ulogu u 2020. godini?

Slovo uz točan odgovor označite na listu za odgovore. Samo je jedan odgovor točan.

- a. Antonio Banderas (u filmu: *Pain and Glory*)
- b. Leonardo DiCaprio (u filmu: *Once upon a Time... in Hollywood*)
- c. Adam Driver (u filmu: *Marriage Story*)
- d. Joaquin Phoenix (u filmu: *Joker*)
- e. Jonathan Pryce (u filmu: *The Two Popes*)

12. zadatak 12 bodova

Bauhaus, avangardna visoka škola za arhitekturu i primjenjenu umjetnost djelovala je u Njemačkoj od 1919. do 1933. godine. Škola je promovirala nove estetske koncepte, sintezu umjetnosti i oblikovanja uporabnih predmeta. Cilj škole bio je stvaranje novog udruženja obrtnika-umjetnika pod vodstvom umjetnika-nastavnika u zajedničkom traganju, i s učiteljske i s učeničke strane, za novim tehnikama, materijalima i novim oblicima koje će primjenjivati na arhitekturu, namještaj i uporabne predmete.

Slovo uz točan odgovor označite na listu za odgovore. Samo je jedan odgovor točan. Za svaki točan odgovor dobiva se 4 boda.


12.1. Koji arhitekt je bio osnivač Bauhausa?

- a. Le Corbusier
- b. Hannes Meyer
- c. Walter Gropius
- d. Peter Behrens
- e. Mies van der Rohe



12.2. U koja tri grada u Njemačkoj je djelovao Bauhaus?

- a. München, Berlin, Dessau
- b. Weimar, Dessau, Hamburg
- c. Weimar, Dessau, Berlin
- d. Berlin, Frankfurt, Hamburg
- e. München, Bonn, Weimar



12.3. Koji umjetnik nije poučavao na Bauhausu?

- a. Paul Klee
- b. Laslo Móholy-Nágy
- c. Piet Mondrian
- d. Vasilij Kandinsky
- e. Edward Hopper



13. zadatak 4 boda

Koji umjetnički duet je poznat po svojim velikim, vizualno impresivnim, često i kontroverznim konceptualnim instalacijama koje uključuju i instalaciju „Umotani Reichstag“ (na slici) i izvedbu plutajućih molova na jezeru Iseo (na slici)?

Slovo uz točan odgovor označite na listu za odgovore. Samo je jedan odgovor točan.

- a. Anni Albers i Josef Albers
- b. Frida Kahlo i Diego Rivera
- c. Christo Vladimirov Javacheff i Jeanne-Claude Denat de Guillebon
- d. Charles Eames i Ray Eames

**14. zadatak 4 boda**

Poznati hrvatski arhitekt rođen je 1934. godine, a umro je ove godine u svibnju mjesecu. Bio je predstojnik Katedre za arhitektonsko projektiranje i Katedre za teoriju i povijest arhitekture, voditelj Kabineta za suvremenu arhitekturu, predavao je na Studiju dizajna i na poslijediplomskim studijima, te dekan Arhitektonskog fakulteta u Zagrebu, a po umirovljenju i profesor emeritus. Pripadao je onoj zlatnoj generaciji zagrebačkih takozvanih „tridesetosmaša“ koji su formirali i održavali cjelovitost hrvatske kulturne scene, bilo da se radilo o arhitekturi, poeziji, slikarstvu, šansoni, zabavnoj i suvremenoj glazbi, jazzu, filmu, dramskoj umjetnosti, baletu, tenisu, skijanju, konjičkom i drugim sportovima. Dobitnik je brojnih priznanja struke i javnosti za neke od zagrebačkih urbanih ikona kao što su Hotel Dubrovnik, poslovna zgrada INA-Naftaplina, WMD centar, sportskih objekata, obiteljskih kuća i, nadasve, kulturnih zagrebačkih kafića i restorana. O kojem arhitektu je riječ?

Slovo uz točan odgovor označite na listu za odgovore. Samo je jedan odgovor točan.

- a. Grozdan Knežević
- b. Ivan Crnković
- c. Nikola Filipović
- d. Aleksandar Dragomanović
- e. Miroslav Begović

15. zadatak 4 boda

S kim se u svojoj poznatoj akciji „Ja volim Ameriku i Amerika voli mene“ koju je izveo 1974. u galeriji René Block u New Yorku Joseph Beuys družio:

Slovo uz točan odgovor označite na listu za odgovore. Samo je jedan odgovor točan.

- a. najboljim prijateljem
- b. psom
- c. kojotom
- d. Valie Export
- e. sinom

16. zadatak 12 bodova

Na fotografijama ispod teksta nalaze se značajne građevine različitih civilizacija, kronološki i geografski udaljenih. Poredaj građevine po starosti, od najstarije do najmlađe.

Pridruži broju građevine odgovarajuće slovo razdoblja. Za svaki točan odgovor dobiva se 3 boda.

- a. 10. stoljeće
- b. 14.-15. stoljeće prije Krista
- c. 9. stoljeće
- d. 15. do 17. stoljeće



1

2



3

4



17. zadatak 4 boda

U kojem periodu je nastala Linearna perspektiva?

Slovo uz točan odgovor označite na listu za odgovore. Samo je jedan odgovor točan.

- a. renesansi
- b. klasicizmu
- c. antici
- d. kubizmu
- e. manirizmu

18. zadatak 12 bodova

Nakon poraza Turaka kod Beča 1683. godine te nakon protjerivanja Turaka južnije od rijeke Save, u sjevernoj se Hrvatskoj formiraju carski, crkveni i plemićki veleposjedi. Najveća plemićka vlastelinstva u Hrvatskoj nalazila su se upravo u Slavoniji i Baranji, a u njihovim sjedištima sagrađen je u 18. i 19. stoljeću veliki broj raskošnih dvoraca u duhu baroka i klasicizma. Pridruži slici građevine naziv i lokaciju dvorca.

Pridruži broju odgovarajuće slovo. Za svaki točan odgovor dobiva se 3 boda.

- a. dvorac Eltz, Vukovar
- b. dvorac Prandau-Normann, Valpovo
- c. dvorac Pejačević, Našice
- d. dvorac Eugena Savojskog, Bilje



1



2



3



4

19. zadatak 4 boda

Međunarodni komitet za spomenike i spomeničke cjeline graditeljske baštine (ICOMOS) u Povelji o tradicijskoj graditeljskoj baštini (Meksiko, 1999.) definira tradicijsku arhitektonsku baštinu kao temeljni izraz kulture neke zajednice. Koja od prikazanih kuća oblikovno i tipološki ne pripada tradicijskoj seoskoj arhitekturi Slavonije i Baranje?

Slovo uz točan odgovor označite na listu za odgovore. Samo je jedan odgovor točan.



a.



b.



c.



d.