

# Dodatna provjera znanja, vještina i sposobnosti

## Test 1

### Provjera opće kulture

Preddiplomski sveučilišni studij

Arhitektura i urbanizam

Upute i napomene pristupnicima:

Listove sa zadacima možete koristiti za bilježenje rješenja, oni se neće ispravljati niti bodovati. Pažljivo pročitajte upute uz svaki zadatak.

Kada ste gotovi, rješenja označite na **LISTU ZA ODGOVORE**. Na primjer:

1. zadatak    12 bodova

A   B   C   D

4	2	1	3
---	---	---	---

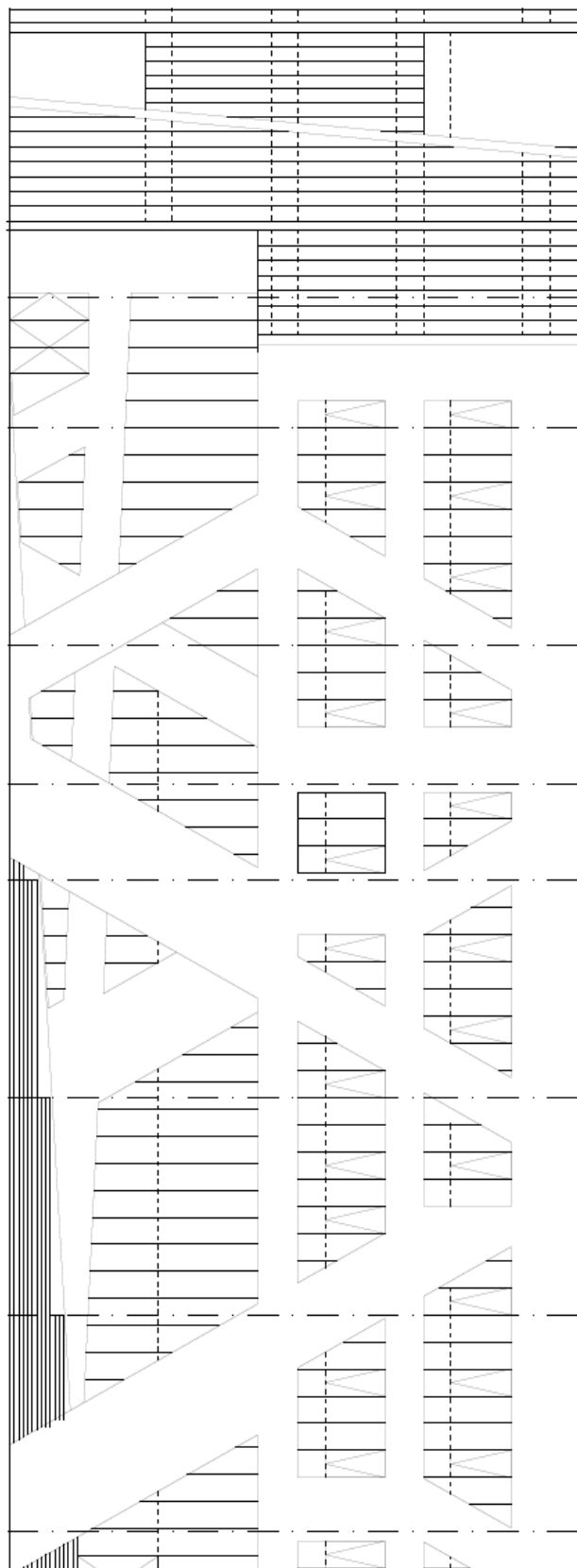
ili

2. zadatak    4 boda

1	2	<del>3</del>	4	5
---	---	--------------	---	---

Na LISTU ZA ODGOVORE koristite isključivo kemijsku olovku, obvezno ispunite odgovore na sva pitanja i nemojte ispravljati odgovore. Osim odgovora na pitanja, LIST ZA ODGOVORE ne smije sadržavati druge bilješke ili skice, jer se u suprotnom neće priznavati bodovi.

Uz svaki zadatak napisan je i broj bodova za točno riješen cijeli zadatak. U testu nema negativnih bodova. U testu je moguće ostvariti maksimalno 150 bodova.



**1. zadatak      12 bodova**

---

Na slikama su prikazane fotografije poznatih fotografkinja koje su ostvarile veliki doprinos u području tog medija. Pridružite odgovarajuću fotografiju njezinoj autorici.

*Pridružite slovu odgovarajući broj. Za svaki točan odgovor dobiva se 3 boda.*


- A. Marija Braut
- B. Dorothea Lange
- C. Slavka Pavić
- D. Annie Leibovitz



1



2



3



4

## 2. zadatak 8 bodova

---

U kojem su hrvatskom parku prirode postavljeni vidikovci prikazani na fotografijama, za koje su autori Mia Roth Čerina i Tonči Čerina dobili nagradu "Bernardo Bernardi" za najuspješnije ostvarenje na području oblikovanja i unutrašnjeg uređenja u 2021. godini?

*Broj uz točan odgovor označite na listu za odgovore. Samo je jedan odgovor točan.*



1. Kopački rit
2. Lonjsko polje
3. Medvednica
4. Plitvička jezera
5. Risnjak

## 3. zadatak 4 boda

---

Prije nogometnog finala Lige prvaka 2022. godine u Parizu, utakmice između Liverpoola i Real Madrida, pjevala je mlada pjevačica popularne glazbe. Tko je pjevao na stadionu u St. Dennisu u Parizu?

*Broj uz točan odgovor označite na listu za odgovore. Samo je jedan odgovor točan.*

1. Doja Cat
2. Camila Cabello
3. Ariana Grande
4. Taylor Swift
5. Carly Rae Jepsen

## 4. zadatak 4 boda

---

Mauzolej obitelji Racić, djelo kipara Ivana Meštrovića, sagrađen je 1921. godine na groblju sv. Roka u jednom hrvatskom priobalnom gradu. Mauzolej je izgrađen od bijeloga bračkog kamena i natkriven je kupolom. U kojem se gradu nalazi ovaj mauzolej?

*Broj uz točan odgovor označite na listu za odgovore. Samo je jedan odgovor točan.*

1. Split
2. Zadar
3. Cavtat
4. Dubrovnik
5. Makarska

**5. zadatak      24 boda**

Razdoblje historicizma u europskoj arhitekturi, slikarstvu, kiparstvu i primijenjenim umjetnostima 19. st. potaknuto je intenzivnim povijesnim, povijesno-umjetničkim i arheološkim istraživanjima te sakupljanjem umjetničkih djela za muzeje. Na fotografijama su prikazana neka od historicističkih arhitektonskih djela u Hrvatskoj. Pridruži nazivu zgrade odgovarajuću sliku.

*Pridružite slovu odgovarajući broj. Za svaki točan odgovor dobiva se 3 boda.*

**5.1 Pridruži slovu koje označava naziv zgrade odgovarajući broj uz fotografiju.**

- A. Muzej za umjetnost i obrt
- B. Hrvatsko narodno kazalište
- C. Željeznički kolodvor
- D. Dvorac Pejačević



**5.2 Pridruži slovu koje označava naziv zgrade broj uz grad u kojemu se zgrada nalazi.**

*Pridružite slovu odgovarajući broj. Za svaki točan odgovor dobiva se 3 boda.*

- |                               |             |
|-------------------------------|-------------|
| A. Muzej za umjetnost i obrt  | 1. Varaždin |
| B. Hrvatsko narodno kazalište | 2. Zagreb   |
| C. Željeznički kolodvor       | 3. Našice   |
| D. Dvorac Pejačević           | 4. Rijeka   |

**6. zadatak      4 boda**

---

Kako se zove poznati košarkaš i košarkaški trener koji je preminuo u travnju 2022. godine, u 79. godini života, a pod čijim je trenerskim vodstvom hrvatska košarkaška reprezentacija na Olimpijskim igrama 1992. u Barceloni osvojila srebrnu medalju?

*Broj uz točan odgovor označite na listu za odgovore. Samo je jedan odgovor točan.*

1. Petar Skansi
2. Mirko Novosel
3. Aleksandar Petrović
4. Ivica Skelin
5. Dražen Anzulović

**7. zadatak      4 boda**

---

Film Murina redateljice Antoanete Alamat Kusijanović dobitnik je brojnih međunarodnih i nacionalnih filmskih nagrada. Film problematizira napete obiteljske odnose mlade šesnaestogodišnje djevojke Julije i njezina oca. Tijekom filma, Julija dalekozorom promatra nešto. Što promatra Julija kroz dalekozor?

*Broj uz točan odgovor označite na listu za odgovore. Samo je jedan odgovor točan.*

1. otoke
2. ribe
3. grad
4. turiste
5. oca

**8. zadatak      4 boda**

---

Koji je arhitekt autor tipografije prikazane na slici?

*Broj uz točan odgovor označite na listu za odgovore. Samo je jedan odgovor točan.*

A B C D E F  
G H I J K L M  
N O P Q R S  
T U V X Y Z

1. Arne Emil Jacobsen
2. Eero Saarinen
3. Alvar Aalto
4. Marcel Breuer
5. Bjarke Ingels



**9. zadatak      4 boda**

---

De Brevitate Vitae (O kratkoći života) je pjesma na latinskom jeziku koja je proglašena studentskom himnom u više europskih zemalja. Na mnogim sveučilištima ovu himnu pjevaju na svečanostima dodjele diploma. Melodija je preuzeta od jedne srednjovjekovne himne koju je napisao Strada, bolonjski biskup, 1267. godine. Himna je također poznata i po svom prvom stihu: Gaudeamus igitur. Koji je skladatelj uvrstio ovu himnu u završni dio svoje Akademске festivalske uvertire?

*Broj uz točan odgovor označite na listu za odgovore. Samo je jedan odgovor točan.*

1. Johannes Brahms
2. Wolfgang Amadeus Mozart
3. Johann Sebastian Bach
4. Bedřich Smetana
5. Ivan Zajc

**10. zadatak      4 boda**

---

Bašćanska ploča je starohrvatski spomenik, pisan prijelaznim oblikom glagoljice oko 1100. godine. Ploča je važan jezični i književni artefakt, a povijesno je značajna zbog prvog spominjanja imena kralja Zvonimira na narodnom jeziku. Bašćansku ploču pronašao je župnik Petar Dorčić ugrađenu u pod crkve sv. Lucije 1851. godine u Jurandvoru kod Baške na otoku Krku. Na kojoj se lokaciji danas čuva original Bašćanske ploče?

*Broj uz točan odgovor označite na listu za odgovore. Samo je jedan odgovor točan.*

1. Zavičajni muzej Baška, Baška
2. Institut za hrvatski jezik i jezikoslovlje, Zagreb
3. Hrvatska akademija znanosti i umjetnosti, Zagreb
4. Crkva sv. Lucije, Jurandvor
5. Hrvatski sabor, Zagreb

**11. zadatak      4 boda**

---

Dekonstruktivizam je arhitektonski pravac koji se pojavio krajem 20. stoljeća, a ime je dobio prema filozofiji dekonstrukcije čiji je začetnik bio Jacques Derrida. Dekonstruktivizam u arhitekturi obilježavaju asimetrija, fragmentacija i disharmonija oblika. Koji je od navedenih arhitekata predstavnik dekonstruktivizma?

*Broj uz točan odgovor označite na listu za odgovore. Samo je jedan odgovor točan.*

1. Ieoh Ming Pei
2. Adolf Loos
3. Michael Graves
4. Robert Venturi
5. Frank Gehry

**12. zadatak**      **12 bodova**

Motiv ljudskog tijela jedan je od najvećih nadahnuća umjetničkom stvaralaštvu. Na slikama su prikazana poznata umjetnička djela s motivom ženskog akta. Koje godine su djela nastala?

*Pridružite slovu odgovarajući broj. Za svaki točan odgovor dobiva se 3 boda.*


- A. 1485. godina
- B. 1863. godina
- C. 1912. godina
- D. 1992. godina



1



2



3



4

**13. zadatak**      **8 bodova**


---

Arne Emil Jacobsen (1902. - 1971.), danski arhitekt i dizajner, sljedbenik je i promicatelj funkcionalističkih načela u oblikovanju. Za vlastite građevine oblikovao je namještaj, rasvjetna tijela, staklene predmete i ostalo. Njegov produkt dizajn ostvario je veliki doprinos razvoju skandinavskoga dizajna. Koji predmet produkt dizajna nije dizajnirao Arne Emil Jacobsen?

*Broj uz točan odgovor označite na listu za odgovore. Samo je jedan odgovor točan.*



1



2



3



4



5



**14. zadatak      8 bodova**

---

Ovogodišnji dobitnik Pritzker nagrade za arhitekturu je Diébédo Francis Kéré. Koju od zgrada prikazanih na fotografijama nije projektirao Diébédo Francis Kéré?

*Broj uz točan odgovor označite na listu za odgovore. Samo je jedan odgovor točan.*




**1**



**2**



**3**



**4**

**15. zadatak**      **10 bodova**

---

Motivi životinja često su poticaj umjetničkom stvaralaštvu. Na slikama su prikazana umjetnička djela koja ideju grade kroz motiv životinje. Pridružite ime autora umjetničkog djela broju fotografije na kojoj je prikazano djelo.

*Pridružite slovu odgovarajući broj. Za svaki točan odgovor dobiva se 2 boda.*

- A. Louise Bourgeois
- B. Damien Hirst
- C. Pablo Picasso
- D. Alberto Giacometti
- E. Jeff Koons



1



2



3



4



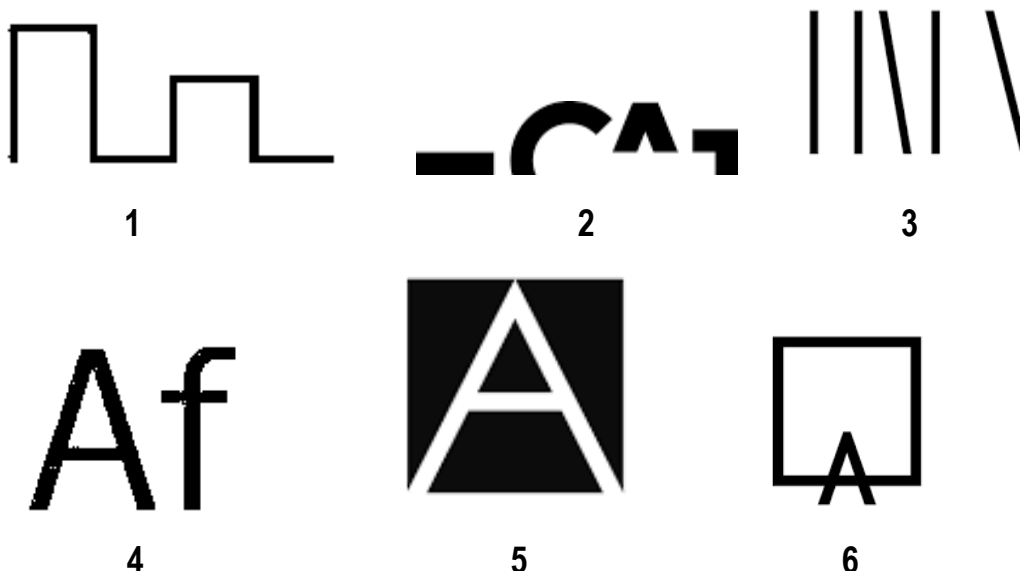
5

**16. zadatak**      **8 bodova**

Logotip ili skraćeno logo je skup posebno oblikovanih slova ili grafičkih znakova, a može se sastojati od teksta, znaka ili njihove kombinacije. Svrha logotipa je predstavljanje tvrtke, institucije ili proizvoda u javnom komuniciranju, kao prepoznatljivog elementa vizualne prezentacije i komunikacije.

Koji od prikazanih logotipa pripada Građevinskom i arhitektonskom fakultetu Osijek?

*Broj uz točan odgovor označite na listu za odgovore. Samo je jedan odgovor točan.*



**17. zadatak**      **4 boda**

Guerilla Girls je američka feministička umjetnička grupa koja se od 1985. godine zalaže za jednakost u svijetu umjetnosti. Na slici je prikazan njihov poznati aktivistički plakat na kojem su predstavile istraživanje o prisutnosti žena umjetnica u Muzeju umjetnosti Metropolitan u New Yorku, SAD. Koji je umjetnik autor djela reinterpetiranog na plakatu?



*Broj uz točan odgovor označite na listu za odgovore. Samo je jedan odgovor točan.*

1. Jean Auguste Dominique Ingres
2. Paul Klee
3. Amadeo Modigliani
4. Pablo Picasso
5. Gustav Klimt

**18. zadatak      8 bodova**

---

Koji je grad prikazan na fotografiji?

Ime grada čitko, tiskanim slovima napišite na listu za odgovore.





**19. zadatak      8 bodova**


---

Arhitektonski ured Herzog & de Meuron projektirao je stadione i sportske objekte po cijelom svijetu. Koja od prikazanih zgrada nije djelo ovog arhitektonskog ureda?

*Broj uz točan odgovor označite na listu za odgovore. Samo je jedan odgovor točan.*



**1**



**2**



**3**



**4**

**20. zadatak**      **8 bodova**

---

Arhitektonsko oblikovanje spomenika koji obilježavaju bitke i ratna događanja II svjetskog rata u istočnoj je Europi bilo uvelike pod utjecajem monumentalne sovjetske arhitekture sredine 20. stoljeća, čemu svjedočimo i na primjeru hrvatskih spomenika iz iste epohe. Koji se od prikazanih spomenika žrtvama rata nalazi u Hrvatskoj?

*Broj uz točan odgovor označite na listu za odgovore. Samo je jedan odgovor točan.*



**1**



**2**



**3**



**4**