

Sveučilište Josipa Jurja Strossmayera u Osijeku

Građevinski i arhitektonski fakultet Osijek

1. srpnja 2024. godine

Dodatna provjera znanja, vještina i sposobnosti

Test 3 _ crtanje

Provjera likovnih i grafičkih sposobnosti

Sveučilišni prijediplomski studij

Arhitektura i urbanizam

Upute i napomene pristupnicima:


Pažljivo pročitajte uputu uz zadatak.

Ispred Vas je PAPIR ZA CRTANJE. Za crtanje koristite mekanu grafitnu olovku. Dozvoljeno je viziranje, toniranje, skiciranje, brisanje gumicom i ponavljanje iste linije. PAPIR ZA CRTANJE ne smije sadržavati druge sadržaje osim crteža, jer se u suprotnom neće priznavati bodovi. Skicirati možete na listovima ovog zadatka.

Prilikom crtanja nije dozvoljeno korištenje papira, olovke, gumice ili slično za povlačenje ravnih linija, crta se isključivo prostoručno.

Crtate na strani papira na kojoj nije šifra. Možete crtati u horizontalnom (landscape) ili vertikalnom (portrait) položaju papira.

Zadatak iz Provjere likovnih i grafičkih sposobnosti donosi maksimalno 200 bodova. U testu nema negativnih bodova.



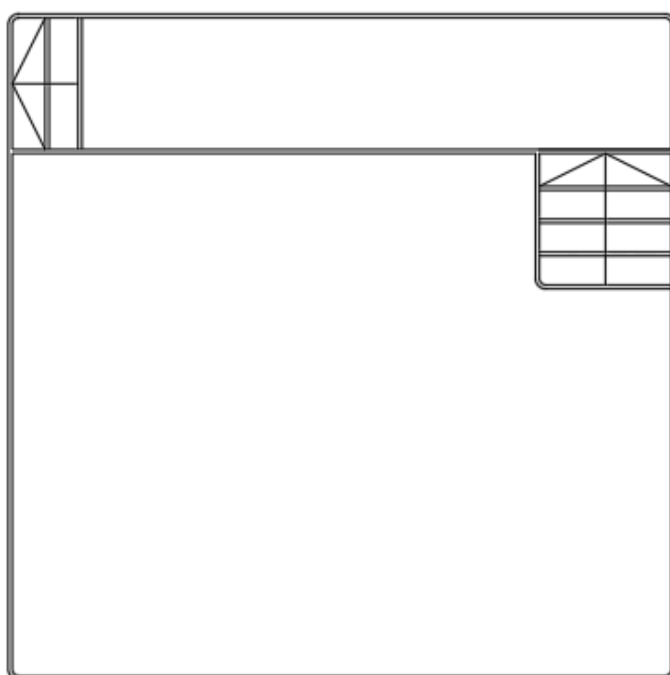
Zadatak**200 bodova**

Suvremeni talijanski umjetnik Massimo Uberti poznat je po prostornim instalacijama koje su izrađene od neonskih cijevi.

Dimenzije instalacije su 500 x 500 x 360 cm (š / d / v).

Na Slici 1. prikazan je tlocrt instalacije na kojem su pozicionirane točke gledišta A i B. Slika 2. prikazuje Ubertijevo djelo izloženo u galerijskom prostoru promatrano iz točke A. Nacrtajte djelo promatrano iz točke B iste visine očišta kao na Slici 2.


U crtež dodajte stolicu s naslonom.



B
×

A
×

Slika 1.



Slika 2.